






# Topografski test - sGG

Ščukanjanje 2024



Številka ekipe: \_\_\_\_\_

## 1. Poimenuj topografske znake.

## 2. Nariši topografske znake. (Barva ni pomembna)

Mejna tabla	Jedrska elektrarna	Manjši nasip

## 3. Kaj je magnetna deklinacija?

## 4. Kaj je kontra azimut?






# Topografski test - sGG

Ščukanjanje 2024



Številka ekipe: \_\_\_\_\_

1. Poimenuj topografske znake.

 HE		

2. Nariši topografske znake. (Barva ni pomembna)

Brv	Črpalka	Apenica

3. Kaj so poldnevnik?

4. Naštej tri severe






# Topografski test - sGG

Ščukanjanje 2024

Številka ekipe: \_\_\_\_\_

**1. Poimenuj topografske znake.**

**2. Nariši topografske znake. (Barva ni pomembna)**


**3. Kaj je reambulacija?**

**4. Opiši postopke generalizacije.**





# Topografski test - sGG

Ščukanjanje 2024



Številka ekipe: \_\_\_\_\_

**1. Poimenuj topografske znake.**

**2. Nariši topografske znake. (Barva ni pomembna)**

Stolp za ostale namene	Ozka steza, pešpot	Plinarna

**3. Kaj so vzporedniki?**

**4. Kaj so izohipse?**






# Topografski test - sGG

Ščukanjanje 2024



Številka ekipe: \_\_\_\_\_

## 1. Poimenuj topografske znake.

## 2. Nariši topografske znake. (Barva ni pomembna)

Kapela	Nadzemni plinovod	Močnejši izvir

## 3. Kaj so linijski orientirji?

## 4. Kaj je merilo in kako ga podajamo?






# Topografski test - sGG

Ščukanjanje 2024



Številka ekipe: \_\_\_\_\_

1. Poimenuj topografske znake.

2. Nariši topografske znake. (Barva ni pomembna)

Kozolec	Kanal ožji od 5m, občasno brez vode	Most

3. Kaj je absolutna in kaj je relativna nadmorska višina?

4. Kaj je ekvidistanca?