






Topografski test - mGG

Ščukanjanje 2024



Številka ekipe: _____

1. Poimenuj topografske znake.

| | | |
|---|---|---|
|  |  |  |
| | | |

2. Nariši topografske znake. (Barva ni pomembna)

| Spomenik | Razgledni stolp | Baraka |
|----------|-----------------|--------|
| | | |

3. Kaj je reambulacija?

4. Opiši postopke generalizacije.






Topografski test - mGG

Ščukanjanje 2024



Številka ekipe: _____

1. Poimenuj topografske znake.

| | | |
|---|---|---|
|  |  |  |
| | | |

2. Nariši topografske znake. (Barva ni pomembna)

| Razvalina | Vodnjak | Kup kamenja |
|-----------|---------|-------------|
| | | |

3. Kaj je triangulacija?

4. Kako na karti prikazujemo relief?






Topografski test - mGG

Ščukanjanje 2024



Številka ekipe: _____

1. Poimenuj topografske znake.

| | | |
|---|---|---|
|  |  |  |
| | | |

2. Nariši topografske znake. (Barva ni pomembna)

| Slabši kolovoz | Trigonometrična točka | Trdnjava |
|----------------|-----------------------|----------|
| | | |

3. Kaj je azimut?

4. Kaj je magnetna deklinacija?



Topografski test - mGG

Ščukanujanje 2024



Številka ekipe: _____

1. Poimenuj topografske znake.

| | | |
|--|--|--|
| | | |
| | | |

2. Nariši topografske znake. (Barva ni pomembna)

| Silos | Zelo opazno, daleč vidno drevo | Stadion |
|-------|--------------------------------|---------|
| | | |

3. Kaj je namen opisa poti?

4. Za koliko stopinj se sonce navidezno premakne vsako uro in kako nam to lahko koristi?






Topografski test - mGG

Ščukanjanje 2024



Številka ekipe: _____

1. Poimenuj topografske znake.

| | | |
|---|---|---|
|  |  |  |
| | | |

2. Nariši topografske znake. (Barva ni pomembna)

| Zgradba | Vodni bazen | Žična ograja |
|---------|-------------|--------------|
| | | |

3. Kaj je skica terena?

4. Kaj so izobare?






Topografski test - mGG

Ščukanjanje 2024



Številka ekipe: _____

1. Poimenuj topografske znake.

| | | |
|---|---|---|
|  |  |  |
| | | |

2. Nariši topografske znake. (Barva ni pomembna)

| Manjša jama, brezno | Most za pešce | Močnejši izvir |
|---------------------|---------------|----------------|
| | | |

3. Kaj je reliefna energija karte?

4. Opiši postopke orientiranja karte.