






Topografski test - RR+

Ščukanjanje 2024



Številka ekipe: _____

1. Poimenuj topografske znake.

2. Nariši topografske znake. (Barva ni pomembna)

Predor	Prepust na železniški progi	Težko prehodno močvirje s trstičjem

3. Kaj je merilo in kako ga podajamo?

4. Kaj so poldnevnik ali meridiani? Koliko jih je?






Topografski test - RR+

Ščukanjanje 2024



Številka ekipe: _____

1. Poimenuj topografske znake.

2. Nariši topografske znake. (Barva ni pomembna)

Plinarna	Apnenica	Močnejši izvir

3. Kaj je reambulacija?

4. Kaj je kota?




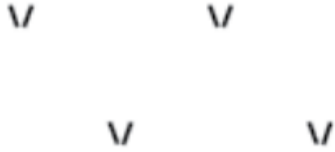

Topografski test - RR+

Ščukanjanje 2024



Številka ekipe: _____

1. Poimenuj topografske znake.

2. Nariši topografske znake. (Barva ni pomembna)

Mejna tabla	Osamljen grob	Svetleča boja

3. V katero kategorijo projekcij spada Merkatorjeva projekcija?

4. Opiši postopke **generalizacije**.




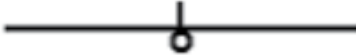
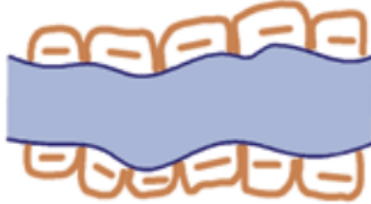
Topografski test - RR+

Ščukanjanje 2024



Številka ekipe: _____

1. Poimenuj topografske znake.

2. Nariši topografske znake. (Barva ni pomembna)

Cesta v useku	Kanal na nasipu	Meteorološka postaja

3. Kaj je karta?

4. Opiši postopke **generalizacije**.






Topografski test - RR+

Ščukanujanje 2024

Številka ekipe: _____

1. Poimenuj topografske znake.

2. Nariši topografske znake. (Barva ni pomembna)

Kanal z manjšimi nasipi	Črpalka	Cerkev kot trigonometrična točka

3. Koliko meridijskih con poznamo pri Gauss-Krugerjevi projekciji?

4. Kaj je geografska širina?




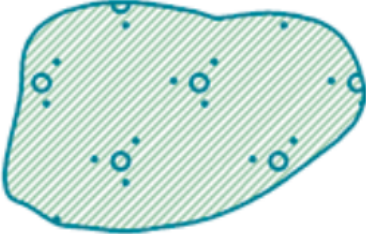

Topografski test - RR+

Ščukanjanje 2024



Številka ekipe: _____

1. Poimenuj topografske znake.

2. Nariši topografske znake. (Barva ni pomembna)

Reka s širino od 5 do 10 m, občasno brez vode	Cisterna z občasno pitno vodo	Podzemna jama z vodo

3. Kaj je trasiranje?

4. Katere vrste kartografskih projekcij poznamo? Natančneje opiši eno!