



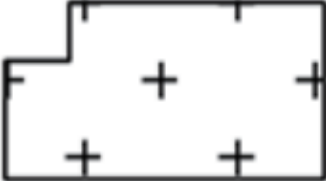


# Topografski test - PP

Ščukanjanje 2024



Številka ekipe: \_\_\_\_\_

## 1. Poimenuj topografske znake.

## 2. Nariši topografske znake. (Barva ni pomembna)

Vodohran na stolpu	Cesta na nasipu	Daljnovid

## 3. Kaj določimo z niveliranjem?

## 4. Kaj je geografska dolžina?





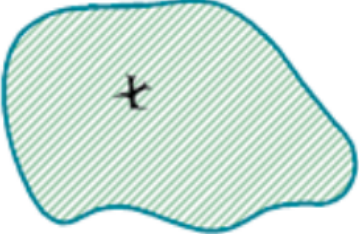
# Topografski test - PP

Ščukanjanje 2024



Številka ekipe: \_\_\_\_\_

1. Poimenuj topografske znake.

2. Nariši topografske znake. (Barva ni pomembna)

Svetilnik	Tekoči trak za prenos materiala	Podzemni plinovod

3. Kaj je hidrografija?

4. Kaj so izobare?






# Topografski test - PP

Ščukanjanje 2024

Številka ekipe: \_\_\_\_\_

## 1. Poimenuj topografske znake.

## 2. Nariši topografske znake. (Barva ni pomembna)

Tovarna	Sidrišče za manjše ladje	Prepust na cesti

## 3. Kakšno projekcijo predstavlja kratica UTM?

## 4. Kaj je kroki?



# Topografski test - PP

Ščukanjanje 2024



Številka ekipe: \_\_\_\_\_

**1. Poimenuj topografske znake.**


**2. Nariši topografske znake. (Barva ni pomembna)**

Čer v višini hidrografske niče	Vrtina za črpanje nafte	Zbiralnik vode

**3. Kaj je meridianska konvergenca?**

**4. Kaj je magnetna deviacija?**



# Topografski test - PP

Ščukanjanje 2024



Številka ekipe: \_\_\_\_\_

## 1. Poimenuj topografske znake.

## 2. Nariši topografske znake. (Barva ni pomembna)

Kapela	Ruševina	Neprehodno močvirje

## 3. Kaj je reambulacija?

## 4. Opiši postopke generalizacije.






# Topografski test - PP

Ščukanjanje 2024



Številka ekipe: \_\_\_\_\_

**1. Poimenuj topografske znake.**

**2. Nariši topografske znake. (Barva ni pomembna)**

Dvotirna železniška proga	Antenski stolp	Spominsko pokopališče

**3. Opiši sistem satelitskega pozicioniranja (GNSS).**

**4. Kaj je trasiranje?**